



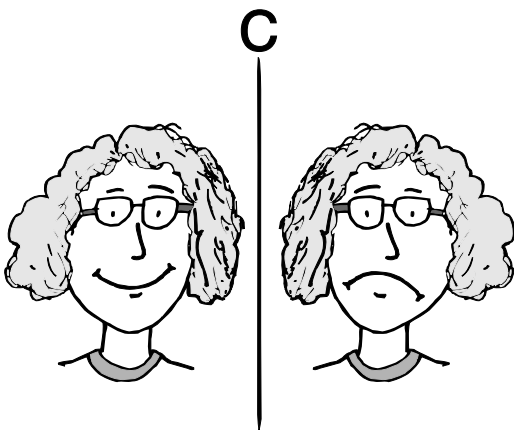
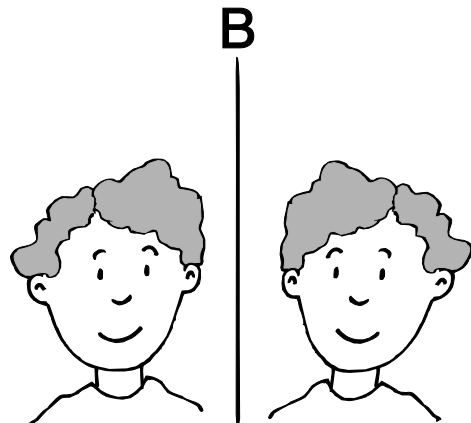
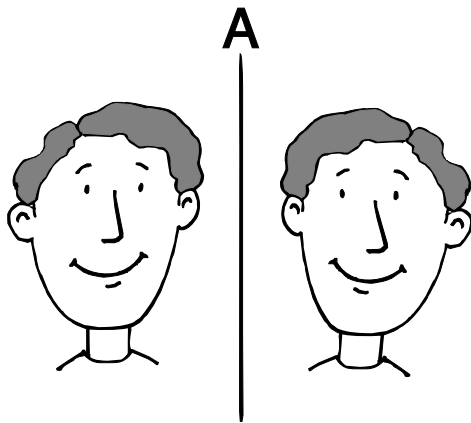


Spiegelbilder

Bei diesen Spiegelbildern haben sich leider Fehler eingeschlichen.

Auftrag 1: Welche Bilder sind keine Spiegelbilder?

Auftrag 2: Verbessere die falschen Spiegelbilder mit einem roten Stift, sodass sie zu richtigen Spiegelbildern werden.





Magische Zahlen (1)

Auftrag 1: Trage Zahlen von 1 bis 9 in die Figuren ein.

Jede Zahl darf in der Figur aber nur ein Mal vorkommen.
Werden die Zahlen addiert, soll senkrecht und waagrecht immer die gleiche Summe herauskommen.

Auftrag 2: Finde verschiedene Möglichkeiten für gleiche und unterschiedliche Summen.



