




Du kaufst auf dem Markt ein:




1 kg = 1000 g



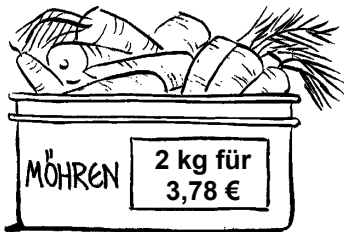
❶ 3 kg Äpfel.



❷ 2,5 kg Birnen.



❸ 600 g Tomaten.



❹ 1 kg Möhren.




❺ 6 Mangos.




❻ 1,5 kg Paprika.



❼ 3 kg Kartoffeln.



❽ 800 g Spinat.




❾ 4 Kohlrabis.



❿ 1,5 kg Bananen.



⓫ 3 Töpfe Basilikum.



⓬ 5 kg Zwiebeln.



⓭ 8 Blumen.



⓮ 9 Stangen Lauch.



⓯ ½ Melone.



Rechne im Heft aus, wie viel du jeweils bezahlen musst.



Die Klasse 8b der Humboldt-Schule möchte am Schulfest ein Fußballturnier veranstalten.



Insgesamt haben sich 5 Mannschaften angemeldet.

Für die Organisation ihres Fußballturniers müssen die Schüler den Spielplan erstellen. Hilf ihnen dabei.



Rechne im Heft.

Schreibe Frage, Rechnung und Antwort in dein Heft.

	Frage:
	Rechnung:
	Antwort:

- 1 Wenn 5 Mannschaften nach dem Prinzip „JEDER GEGEN JEDEN“ spielen, wie viele Spiele gibt es dann?
- 2 Wie viel Zeit steht der Klasse für die Durchführung des Turniers zur Verfügung?
- 3 Zwischen den Spielen soll immer eine 5-minütige Pause liegen. Wie viele Pausen gibt es?
- 4 Wie viel Zeit wird für alle Pausen zusammen benötigt?
- 5 Wie viel Zeit steht für jedes einzelne Fußballspiel zur Verfügung?




Tip: Schreibe alle Spielpaarungen in dein Heft.




Anton ist in eine eigene Wohnung gezogen. Jetzt plant er seine Einweihungsfeier. Es sind 14 Freunde eingeladen. Er hat folgende Rezepte ausgeschrieben:

----- Partyrezepte -----




Partysuppe:
(für 5 Personen)
1 kg Gehacktes
2 Zwiebeln
3 Paprikaschoten
2 Dosen Kidneybohnen
7 große Kartoffeln
½ Tube Tomatenmark
2 Gläser Zigeunersoße
Salz und Pfeffer

----- Partyrezepte -----



Kirsch-Quark-Nachspeise:
(für 4 Personen)
200 g Quark
100 g Marmelade
160 g Kirschen
200 ml Schlagsahne
120 g Schokostreusel

----- Partyrezepte -----



Cocktail:
(für 3 Personen)
½ l Orangensaft
Saft von 1 ½ Zitronen
⅛ l Grenadine
¼ l Soda

Hilf Anton beim Anpassen der Rezepte.



Rechne im Heft.

- 1 Für wie viele Personen muss Anton die Zutaten einkaufen?
- 2 Rechne die Zutaten für alle Personen für die Partysuppe aus. Schreibe das angepasste Rezept in dein Heft.
- 3 Rechne die Zutaten für alle Personen für die Nachspeise aus. Schreibe das angepasste Rezept in dein Heft.
- 4 Rechne die Zutaten für alle Personen für den Cocktail aus. Schreibe das angepasste Rezept in dein Heft.