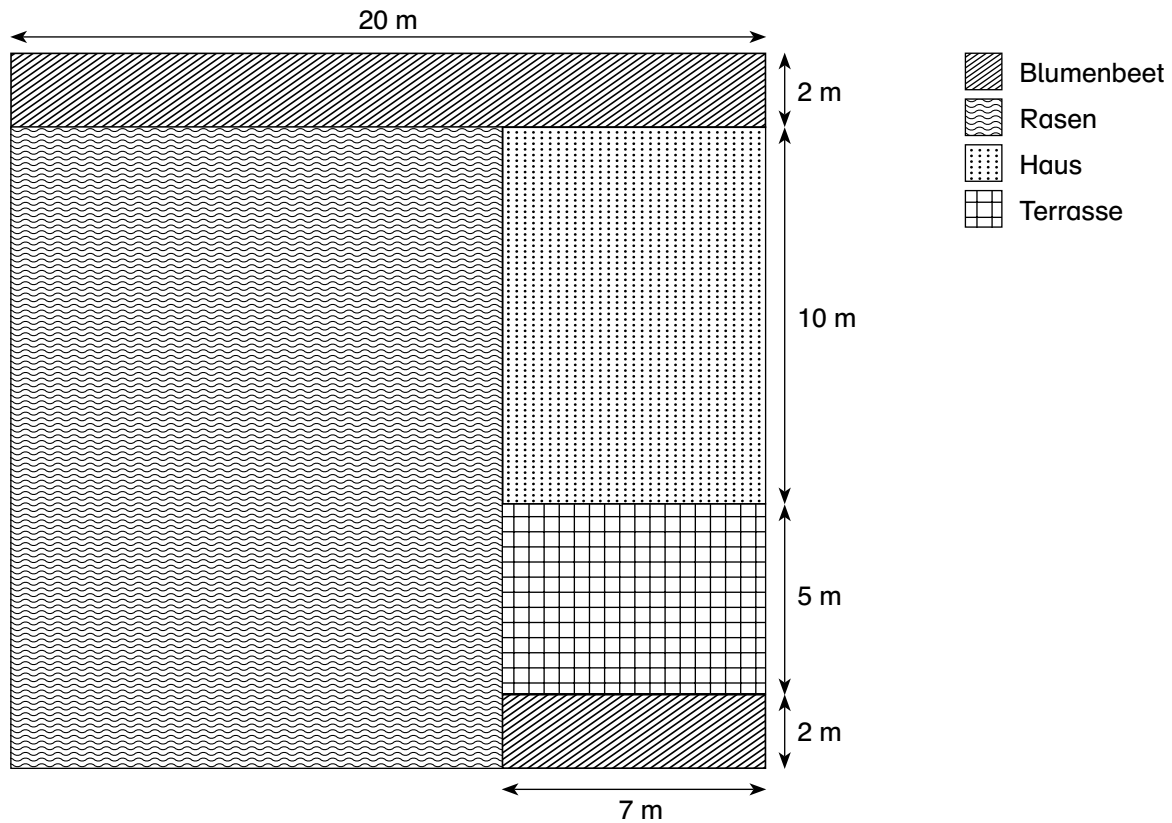




Name: _____


Datum: _____




Sandra macht eine Ausbildung als Helferin im Gartenbau. Heute macht sie gemeinsam mit ihrem Chef einen Kostenvoranschlag für die Neugestaltung eines Gartens. Sandra soll hierfür ausrechnen, wie groß die einzelnen Gartenbereiche sind.

? Frage: _____


✎ Antwort: _____





Name: _____

Datum: _____



2 Liter



1 Liter



$\frac{3}{4}$ Liter

Sandra macht eine Ausbildung im Restaurant „Goldrausch“. Heute Abend findet dort eine Geburtstagsfeier statt. Dafür soll Sandra zwei Saftcocktails mixen.



Frage: In welche Flasche kann sie den Cocktail füllen? Begründe.

Cocktail 1:

$\frac{3}{4}$ l Ginger Ale

$\frac{1}{4}$ l Orangensaft



Antwort: _____

Cocktail 2:

$\frac{3}{4}$ l Orangensaft

$\frac{1}{4}$ l Zitronensaft

$\frac{1}{4}$ l Grenadine



Antwort: _____

Schreibe die Rechnung in dein Heft.